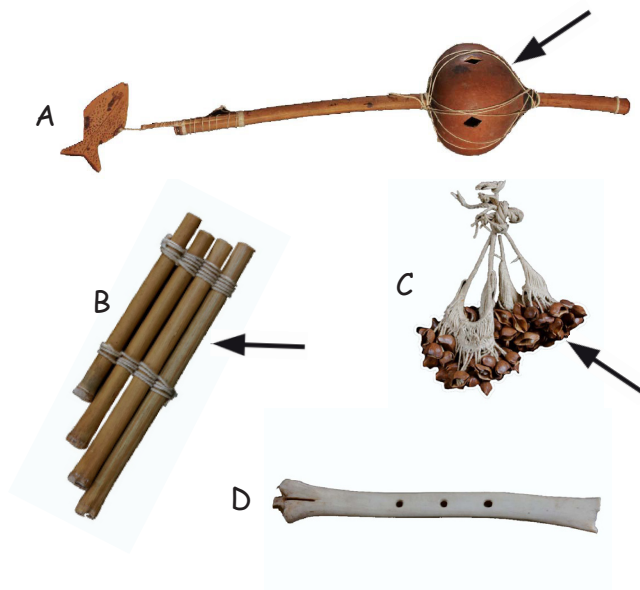



9. Associe chaque instrument de musique à la matière qui a servi à les fabriquer.



10. Comment s'appelle cet objet ? A quoi sert-il ? Entoure la bonne réponse.



1. () Collier du chamane, utilisé dans les rituels
2. () Jouet pour enfants
3. () Marque les différentes étapes d'une grande fête teko.

Réponses

- 1) Wayäpi et Teko 5) 2,4,5,1,3
 2) Villages teko : Adjela, Civette, Kapu, Pauline, Elahé 3) B
 7) 1A, 2B et Kayodé. Villages wayäpi : St-Sol, Tukutstin, Ilot 9) 1B-2D-3C-4A
 8) A)Ouroucou-B) Génipa Mula, Yawapa, Pina, Zidock et Roger. 10) C

EXPOSITION
KOÛWE OLOÛJU !
 Nous existons !
TEKO ET WAYÄPI
DE GUYANE
 MUSÉE DES CULTURES GUYANAISES

Je m'appelle :



1. Quels sont les peuples amérindiens de Guyane présentés dans l'exposition ? Entoure leurs noms.

Wayana **Wayäpi** Apache ARAWAK
 Saramaka XINGU Teko

2. A l'aide de la carte située au début de l'exposition, localise et recopie le nom de 3 villages wayäpi et de 3 villages teko.

Villages WAYÄPI

Villages TEKO

1.
2.
3.

1.
2.
3.



Fiche offerte par le Musée des cultures guyanaises
 Conception et réalisation : V. BEAUFORT, V. FRACALOSI, S. HIPPOCRATE et M. SAGNE
 78 rue Madame Payé- 97300 CAYENNE

3. Une seule de ces habitations est wayãpi. Laquelle ?



A



B



C




D

4. Dessine un banc représentant un animal de ton choix, en t'inspirant de ceux qui sont dans l'exposition.

6. Relie ces objets traditionnels aux objets manufacturés qui correspondent le mieux à leur usage.



1



2



3



4



A



B



C



D

7. A quoi servent ces deux objets ? Relie-les à la bonne réponse.

1



- A. Utilisé lors de rituels.
- B. Sert à tamiser la farine de manioc.
- C. Sert à s'éventer.

2



- A. Utilisé pour attirer les oiseaux.
- B. Utilisé comme hochet pour bébé.
- C. Sert à décorer le carbet.

5. Numérote les différentes phases de fabrication de la cassave.



()



()



()



()



()

8. Donne le nom de deux pigments utilisés par les amérindiens pour la peinture corporelle.



A.



B.